

Математика

2 класс

Тема "Прямоугольник.  
Квадрат".



# Вычисли:

$$28 - 6$$

$$30 + 4$$

$$16 : 2$$

$$9 \cdot 7$$

$$98 - 64$$

$$46 + 4$$




$$79 - 40$$

$$83 + 10$$

$$58 - 6$$



# Город Многоугольников



# Прямоугольник

четырёхугольник;  
все углы прямые;  
противоположные стороны равны;  
большая сторона – длина  
меньшая сторона - ширина


длина



ширина

# Квадрат

**прямоугольник;  
все стороны равны**



# Тест

1. **Выбери правильный ответ.**  
А) У квадрата все стороны равны.  
Б) У прямоугольника все стороны равны.
2. **Длина прямоугольника - это....**  
А) сторона, которая длиннее.  
Б) сторона, которая короче.
3. **Что такое ширина прямоугольника?**  
А) Сторона, которая длиннее.  
Б) Сторона, которая короче.
4. **Какие утверждения правильны?**  
А) Любой квадрат - это прямоугольник.  
Б) Любой прямоугольник - это квадрат.  
В) Любой четырёхугольник - это прямоугольник.




# Проверь!

1. **Выбери правильный ответ.**  
**А) У квадрата все стороны равны.**  
Б) У прямоугольника все стороны равны.
2. **Длина прямоугольника - это....**  
**А) сторона, которая длиннее.**  
Б) сторона, которая короче.
3. **Что такое ширина прямоугольника?**  
А) Сторона, которая длиннее.  
**Б) Сторона, которая короче.**
4. **Какие утверждения правильны?**  
**А) Любой квадрат - это прямоугольник.**  
Б) Любой прямоугольник - это квадрат.  
В) Любой четырёхугольник - это прямоугольник.



**Я понял,  
что ...**



**Было  
интересно ...**



**Было трудно ...**



**У меня  
получилось ...**